

# PENILAIAN AKHIR TAHUN

## Bahagian A [60 markah] Jawab semua soalan.

- 1 Tokoh berikut merupakan sejarawan yang terkenal.



*Ibn Khaldun*

Apakah pengertian sejarah menurut beliau?

- I Peradaban dunia
  - II Perubahan sifat manusia
  - III Peristiwa yang sudah berlaku
  - IV Perkembangan sesebuah masyarakat
- A** I dan II      **C** II dan III  
**B** I dan IV      **D** III dan IV
- 2 Sumber primer bersifat asli dan belum ditafsir.  
Apakah bahan yang tergolong sebagai sumber primer?
- A** Fosil
  - B** Akhbar
  - C** Risalah
  - D** Ensiklopedia
- 3 Senarai berikut merupakan sumber sejarah.

- |  |
|--|
| <ul style="list-style-type: none"> <li>• Tembikar</li> <li>• Mata lembing</li> <li>• Batu nisan</li> </ul> |
|--|

Sumber sejarah tersebut diperolehi melalui kaedah \_\_\_\_\_.

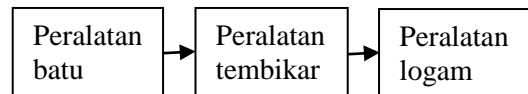
- A** lisan      **C** arkeologi  
**B** tulisan      **D** rakaman
- 4 Senarai berikut merupakan tasik yang wujud dan kekal sehingga kini.

- |   |
|---|
| <ul style="list-style-type: none"> <li>• Great Lakes, Kanda</li> <li>• Tasik Dayang Bunting, Malaysia.</li> </ul> |
|---|

Pembentukan tasik tersebut adalah kesan daripada \_\_\_\_\_.

- A** gempa bumi
- B** aktiviti manusia
- C** kecairan air batu
- D** perubahan iklim

- 5 Rajah berikut menunjukkan perkembangan teknologi masyarakat Zaman Prasejarah.



Apakah nilai yang patut kita contohi daripada mereka?

- I Keberanian      III Daya kreativiti
  - II Kegigihan      IV Semangat patriotik
- A** I dan II      **C** II dan III  
**B** I dan IV      **D** III dan IV
- 6 Masyarakat Tamadun Mesopotamia membina zigurat di setiap pusat bandar.  
Apakah peranan zigurat kepada masyarakat Mesopotamia?
- A** Pelabuhan
  - B** Pusat pentadbiran
  - C** Tempat beribadat
  - D** Kawasan perniagaan
- 7 Apakah sumbangan Tamadun Mesir Purba kepada ketamadunan manusia?
- A** Falsafah perang
  - B** Sistem kalendar
  - C** Tulisan kuneiform
  - D** Bandar terancang

- 8 Senarai berikut merupakan fungsi sebuah badan dalam sistem demokrasi Athens.

<b>X</b>	Melaksanakan dasar-dasar yang telah ditetapkan
	Menguruskan hal ehwal pendidikan, percukaian, dan sebagainya.

Apakah **X**?

- A** Juri      **C** Majistret
  - B** Majlis      **D** Dewan Perhimpunan
- 9 Gambar berikut menunjukkan binaan berkubah yang terbesar di dunia, iaitu Pantheon.



Apakah tujuan pembinaan bangunan tersebut?

- A Pusat pentadbiran
- B Pusat perniagaan
- C Tempat persembahan seni
- D Tempat penyembahan dewa-dewi

10 Apakah kesan amalan sistem kabilah dalam masyarakat Arab Jahiliah?

- A Mewujudkan kestabilan politik
- B Menimbulkan semangat assabiah
- C Mengembangkan semangat sistem ekonomi
- D Mengeratkan semangat perpaduan antara suku

11 Dinasti yang berikut telah mencapai tahap tinggi dalam perluasan kuasa.

- Dinasti Nanda
- Dinasti Maurya
- Dinasti Gupta

Kejayaan dinasti tersebut dalam perluasan kuasa adalah disebabkan \_\_\_\_\_.

- I dasar pemerintah
- II kekuatan ketenteraan
- III bantuan kuasa asing
- IV kegunaan senjata nuklear
- A I dan II                      C II dan III
- B I dan IV                      D III dan IV

12 Apakah tanggungjawab pemimpin Zaman Logam?

- A Membentuk aturan kehidupan
- B Mengetuai aktiviti perburuan binatang
- C Menetapkan aktiviti harian masyarakat
- D Mengetuai upacara ritual

13 Manusia pada Zaman Paleolitik dan Mesolitik mengamalkan kepercayaan bahawa setiap benda mempunyai kuasa dan semangat yang mampu menentukan kehidupan manusia. Kepercayaan tersebut dipanggil \_\_\_\_\_.

- A ritual                      C politeisme
- B animisme                  D agama

14 Konsep Tamadun dalam Islam merangkumi pembangunan \_\_\_\_\_.

- I lahiriah                      III Islamiah
- II rohaniah                    IV sahsiah
- A I dan II                      C II dan III
- B I dan IV                      D III dan IV

15 Kemahiran dalam bidang teknologi masyarakat tamadun awal telah menghasilkan penciptaan barangan, monumen dan hasil pertukangan.

- A Membentuk kerajaan
- B Menikmati keselesaan hidup
- C Meningkatkan ilmu pengetahuan
- D Mengubah status sosial

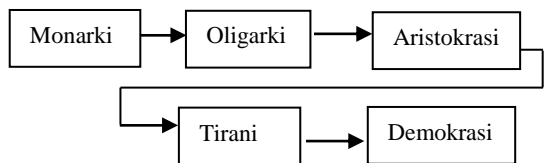
16 Kod undang-undang berikut telah diperkenalkan oleh pemerintah kerajaan Mesopotamia, iaitu Hammurabi.

Kod Undang-Undang Hammurabi

Kod undang-undang tersebut mengandungi perkara yang merangkumi \_\_\_\_\_.

- I pertanian
- II perdagangan
- III denda dan hukuman
- IV hal keagamaan
- A I dan II                      C II dan III
- B I dan IV                      D III dan IV

17 Rajah berikut menunjukkan perubahan sistem dalam Tamadun Yunani.



Mengapakah berlaku perubahan tersebut?

- A Mengurangkan kuasa rakyat
- B Mengelakkan perang saudara
- C Memantapkan sistem pemerintahan
- D Menghapuskan pemerintahan tradisional

18 Senarai berikut merupakan fungsi sebuah badan dalam sistem demokrasi Athens.

<b>X</b>	Melaksanakan dasar-dasar yang telah ditetapkan
	Menguruskan hal ehwal pendidikan, percukaian dan sebagainya.

Apakah **X**?

- A Juri
- B Majlis
- C Majistret
- D Dewan Perhimpunan

19 Juri merupakan badan yang bertanggungjawab dalam hal yang berkaitan dengan keadilan.

Pesalah boleh merayu terus kepada \_\_\_\_\_.

- A raja
- B Majlis
- C Majistret
- D warganegara

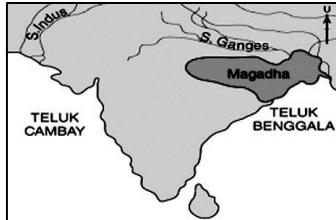
20 Negara berikut telah mewarisi sistem pemerintahan demokrasi yang diperkenalkan oleh Tamadun Yunani.

- Indonesia
- Malaysia
- Britain

Apakah ciri demokrasi yang diamalkan oleh negara tersebut?

- A Raja menggubal undang-undang
- B Rakyat berhak memilih pemimpin
- C Negara diketuai oleh Perdana Menteri
- D Anggota Dewan Rakyat dilantik oleh ketua negara

21 Peta berikut menunjukkan empayar yang telah dibentuk dalam Tamadun India.



Empayar tersebut dibentuk oleh dinasti\_\_\_\_\_.

- A Nanda
  - B Gupta
  - C Maurya
  - D Magadha
- 22 Apakah peristiwa yang menyebabkan Asoka mengubah dasar perluasan kuasa daripada perluasan fizikal kepada perluasan keagamaan?
- A Perang Kalinga
  - B Perebutan takhta
  - C Serangan orang Aryan
  - D Tuntutan penduduk tempatan
- 23 Apakah ciri-ciri sistem peperiksaan perkhidmatan awam China?
- I Berasaskan falsafah legalisme
  - II Terbuka kepada calon lelaki sahaja
  - III Mengekalkan tradisi dan budaya China
  - IV Berubah mengikut kesesuaian masa
- A I dan II
  - B I dan IV
  - C II dan III
  - D III dan IV
- 24 Maklumat berikut berkaitan dengan ganjaran yang diperoleh seseorang yang lulus dalam peperiksaan awam China.

- Mendapat kedudukan dan pangkat tinggi dalam kerajaan.
- Memperoleh pelbagai keistimewaan untuk diri, keluarga dan kampungnya.

Apakah peperiksaan tersebut?

- A *Xiuchai*
  - B *Juren*
  - C *Jinshi*
  - D *Shiji*
- 25 Masyarakat Arab Jahiliah mengamalkan sistem kabilah. Apakah kesan amalan sistem tersebut?
- A Mewujudkan kestabilan politik
  - B Menimbulkan semangat assabiyah

- C Mengembangkan kemajuan sistem ekonomi
- D Mengeratkan semangat perpaduan antara suku

26 Mengapakah agama Islam mudah disebarkan dan diterima oleh masyarakat dunia?

- I Kesyumulan Islam
  - II Prinsip keterbukaan
  - III Kemewahan hidup
  - IV Peningkatan darjat
- A I dan II
  - B I dan IV
  - C II dan III
  - D III dan IV

27 Apakah kepentingan Piagam madinah yang digubal oleh Nabi Muhammad SAW?

- A Mewujudkan kestabilan politik
- B Menimbulkan semangat assabiyah
- C Mengembangkan kemajuan sistem ekonomi
- D Mengeratkan semangat perpaduan antara suku

28 Apakah yang diberi penekanan oleh Nabi Muhammad SAW melalui Piagam Madinah?

- I Keselesaan
  - II Keadilan
  - III Kebebasan
  - IV Kemewahan
- A I dan II
  - B I dan IV
  - C II dan III
  - D III dan IV

29 Apakah sumbangan Al-Khawarizmi kepada Tamadun Islam?

- A Ilmu perubatan
- B Ilmu astronomi
- C Bidang falsafah
- D Bidang matematik

30 Al-Arqam bin Abu Arqam telah memberi sumbangan kepada penyebaran Islam pada peringkat awal di Makkah.

Bagaimanakah beliau membantu untuk menyebarkan Islam?

- A Mengumpulkan ayal al-Quran
- B Mengetuai umat Islam berhijrah ke Madinah
- C Mewakafkan rumah sebagai pusat kegiatan dakwah
- D Mengetuai tentera Islam menentang golongan Quraisy

**Bahagian B**  
[20 markah]  
Jawab **semua** soalan.

1 Nyatakan istilah berikut berdasarkan pernyataan yang diberikan.

Istilah	Pernyataan
(a)	Terdiri daripada banjaran, gunung, bukit, tanah pamah, lembah, dan sungai.
(b)	Kawasan air masin yang meliputi 71 peratus bentuk muka bumi.
(c)	Kawasan perairan sempit yang memisahkan dua kawasan daratan.
(d)	Bahagian perairan laut yang menghala ke daratan dan kawasannya dibatasi oleh daratan.

[4 markah]

2 Berdasarkan rajah yang berikut, bandingkan ciri-ciri kehidupan Zaman Prasejarah dari segi tempat kediaman dan kegiatan ekonomi.

Zaman Prasejarah	Tempat kediaman	Kegiatan ekonomi
(a) Paleolitik	i. _____ ii. _____ iii. _____ _____	i. _____ _____ ii. _____ _____
(b) Neolitik	i. _____ _____ _____ ii. _____ _____	i. _____ ii. _____ iii. _____ iv. _____ _____

[4 markah]





3 Tamadun ditakrifkan sebagai suatu pencapaian tertinggi oleh sesuatu masyarakat dalam pelbagai bidang.

Nyatakan ciri-ciri tamadun awal dunia.

- (a) \_\_\_\_\_
- (b) \_\_\_\_\_
- (c) \_\_\_\_\_
- (d) \_\_\_\_\_
- (e) \_\_\_\_\_
- (f) \_\_\_\_\_

[4 markah]

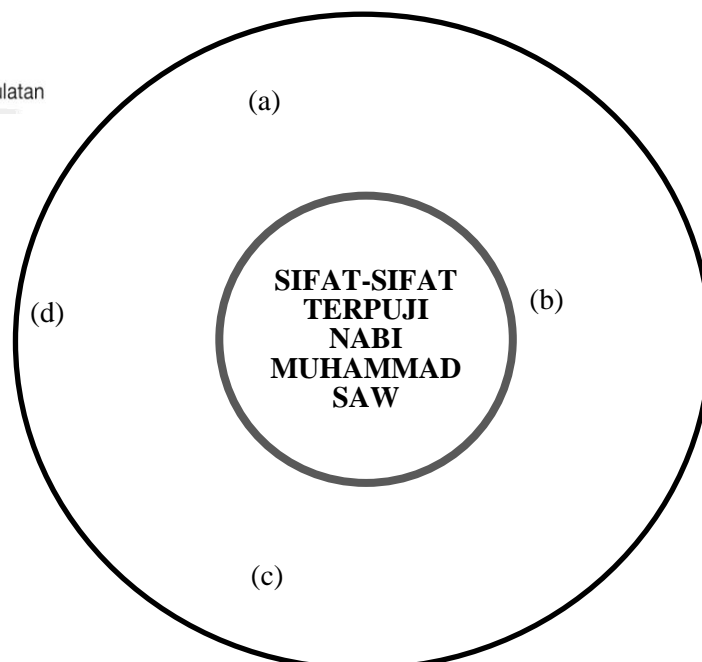
- 4 Tamadun Rom terkenal dengan kepakaran dalam bidang seni bina. Binaan-binaannya mempunyai ketahanan tinggi yang masih kekal sehingga kini. Berdasarkan gambar yang diberi, nyatakan fungsi seni bina Rom yang berikut.

Seni bina	Fungsi
(a) 	
(b) 	
(c) 	
(d) 	

[4 markah]

- 5 Nabi Muhammad SAW mempunyai sifat-sifat terpuji. Berdasarkan peta bulatan berikut, nyatakan sifat-sifat terpuji yang dimiliki oleh Nabi Muhammad SAW?

**i-THINK** Peta Bulatan



[4 markah]

**Bahagian C**  
[20 markah]  
Jawab **semua** soalan.

1 Jadual berikut menunjukkan lokasi tamadun awal dunia.

Tamadun	Lokasi
Tamadun Mesopotamia	Lembah Sungai Tigris dan Euphrates
Tamadun Mesir Purba	Lembah Sungai Nil
Tamadun Indus	Lembah Sungai Indus
Tamadun Huang He	Lembah Sungai Huang He

(a) Mengapakah tamadun awal dunia bermula di lembah Sungai?

---

---

---

---

---

[3 markah]

(b) Pada pendapat anda, apakah kepentingan sungai kepada kita pada masa kini?

---

---

---

---

---

---

[4 markah]

(c) Berikan cadangan anda untuk memelihara dan memulihara sungai di negara kita.

---

---

---

---

[3 markah]

2 Tamadun Rom terkenal dengan kepakaran dalam bidang seni bina.

(a) Jelaskan faktor yang mempengaruhi kepakaran seni bina tersebut?

---

---

---

---

---

---

---

[3 markah]

(b) Jelaskan ciri-ciri tersendiri dalam pembinaan bangunan dan seni bina di Rom.

---

---

---

---

---

---

---

[3 markah]

(c) Terangkan inovasi yang dihasilkan oleh Tamadun Rom dalam pembinaan Amfiteater.

---

---

---

---

---

---

---

---

---

---

[3 markah]

(d) Cadangkan peranan generasi hari ini untuk meningkatkan bidang seni bina di negara kita.

---

---

---

---

---

---

---

[3 markah]

3 Nabi Muhammad SAW diiktiraf sebagai Rasalullah dan pemimpin yang unggul.  
Nyatakan ketokohan Nabi Muhammad SAW sebagai

(a) Pemimpin masyarakat

---

---

---

---

---

---

---

[2 markah]

(b) Pembangun ekonomi

---

---

---

---

---

---

---

[2 markah]

(c) Pemimpin tentera

---

---

---

---

---

---

---

---

---

---

[2 markah]

(d) Jelaskan ciri-ciri kepimpinan Nabi Muhammad SAW yang patut kita contohi.

---

---

---

---

---

---

---

---

---

---

---

[4 markah]